

1. Bu testte toplam 12 soru vardır.
2. Cevaplarınızı, cevap kâğıdınızın Türkçe testi için ayrılan kısmına işaretleyiniz.

1. • Türkçe sözcüklerde sözcüğün ilk hecesinde kalın ünlü varsa sonraki hecelerde de kalın ünlüler; ince ünlü varsa sonraki hecelerde de ince ünlüler bulunur. Bu olaya büyük ünlü uyumu denir.

- Tek heceli sözcüklerde büyük ünlü uyumu aranmaz.
- Birleşik sözcüklerde büyük ünlü uyumu aranmaz.
- Başka dillerden dilimize girmiş olan sözcüklerde büyük ünlü uyumu aranmaz.

**Buna göre aşağıdaki cümlelerde geçen altı çizili sözcüklerden hangisi büyük ünlü uyumuna uymaz?**

- A) Bu kış da tüm çocuklar hasretle kar yağmasını bekledi.
- B) Çalışma odamda küçük çaplı birkaç değişiklik yapacağım.
- C) Küçük kız, karşısında koca koca inekleri görünce çok heyecanlandı.
- D) Akşam gelecek misafirler için hazırlıklar tamamlandı.



2. Atalarımızın gözlem, deneyim ve tecrübelerine dayanarak söylediği kısa, özlü ve kalıplaşmış sözlere "atasözü" denir. Atasözleri az sözle çok şey anlatan kalıplaşmış ifadelerdir.

**Bu tanıma göre aşağıdaki atasözlerinden hangisi "Her şeyin işe yarayacağı bir zaman mutlaka gelir." anlamı taşımaktadır?**

- A) Minareyi çalan kılıfını hazırlar.
- B) Damlaya damlaya göl olur.
- C) Ayağını yorganına göre uzat.
- D) Sakla samanı, gelir zamanı.



3. • Yaz kış demeden çalışıyor, gücüne güç katıyor.

- Her çok azdan olur.
- Anlatmak istediklerimi er geç anlayacaksın!

Yukarıdaki cümlelerde altı çizili sözcükler birbirlerine zıt (karşıt) anlamlar ifade etmektedir.

**Bu şekilde bir kullanım aşağıdaki cümlelerden hangisinde vardır?**

- A) Bu zor şartlarda güçlü iradesiyle her şeyi göğüsledi.
- B) Büyük köy meydanında genç yaşlı herkes toplanmıştı.
- C) Bir gayeye erişmeyi amaçlayan her birey yol alır.
- D) Planlı ve yöntemli ilerleyenleri durdurmak zordur.



4. I. savunmanın  
II. yolu  
III. eğitimidir  
IV. yurdu  
V. en ucuz

**Numaralanmış sözlerle anlamlı ve kurallı bir cümle oluşturan diziliş aşağıdakilerden hangisidir?**

- A) IV - II - V - I - III  
B) IV - I - V - II - III  
C) V - IV - I - III - II  
D) IV - II - III - V - I



**5 ve 6. soruları metne göre cevaplandırınız.**

5. En iyi buğday yarışmasında yarışmaya senelerdir katılan bir çiftçi, büyük ödülü o yıl da kazanmıştır. Yarışmayı izleyen gazeteciler, çiftçiden bu başarısının sırrını öğrenmek istediler. Çiftçi, bu sırrın kendi buğday tohumlarını komşularıyla paylaşmasında yattığını söyledi. Gazeteciler bu cevaba çok şaşırdılar:

– Onlar sizin rakibiniz olarak yarışmaya katılıyorlar. Buna rağmen ne diye tohumlarınızı onlarla paylaşıyorsunuz?

Çiftçi:

– Neden olmasın? Bilmiyor musunuz? Rüzgâr olgunlaşmakta olan buğdaydan poleni alır ve tarladan tarlaya taşır. Bu açıdan bakınca komşularımın kötü buğday yetiştirmeleri demek, benim kötü buğday yetiştirmem demektir. Bunun için komşularımın da iyi buğdaylar yetiştirmesine yardımcı olmam gerekiyor.

**Aşağıdakilerden hangisi bu parçada geçen altı çizili sözcüklerden herhangi birinin eş anlamlısı değildir?**

- A) Yel  
B) Yıl  
C) Münazara  
D) Giz



6. **Metinden hareketle aşağıdakilerden hangisi söylenebilir?**

- A) Kaliteli bir ortamda kaliteli eserler verilebilir.  
B) Tek başına çabalamak, sonuç elde edilince bireyleri yüceltir.  
C) İnsanlar çevrelerine karşı duyarlı oldukları ölçüde mutluluğu yakalar.  
D) Hiçbir eser yoktur ki bir başkasından etkilenmemiş olsun.



7.

★	Saatler geçtikçe <u>heyecanımı-</u> <u>zı</u> durdurmak zorlaşıyordu.	Soyut İsim
▲	<u>Rüzgârın</u> etkisiyle sallanan dallar yere eğiliyor.	Somut İsim
●	Her ayın sonunda <u>Gen Ko-</u> <u>leji</u> , deneme sınavı yapar.	Özel İsim
■	<u>Deniz</u> , tüm dalgalarını kıyıya gönderiyordu.	Özel İsim

Yukarıdaki tabloda sembollerle ifade edilen cümlelerden hangisinde geçen altı çizili sözcüğün türü **yanlış** belirtilmiştir?

- A) ■ B) ● C) ▲ D) ★



8. Bir cümlede farklı kişiler, nesnelere veya olaylar benzer ya da farklı yönleriyle kıyaslanıyorsa o cümlede karşılaştırma cümlesi denir. Karşılaştırma cümlelerinde "gibi, benzer, kadar, daha" gibi ifadeler yer verilir.

Buna göre aşağıdaki cümlelerden hangisi karşılaştırma cümlesidir?

- A) Aralık ayında kar yağmadı.  
B) Soğuktan tir tir titreyen yavru kediyi içeri aldım.  
C) Öyküler romana göre daha kısa solukludur.  
D) Şiir, içten gelen duyguların kelimelere dönüşmesidir.



9. Aşağıdaki cümlelerin hangisinde büyük harflerin kullanımıyla ilgili bir yanlışlık yapılmıştır?

- A) Ahmet Bey, yeni çıkan kitabını arkadaşlarına tanıtıyor.  
B) Bir Roman okumaya başlarken hep heyecanlanırım.  
C) Tuz Gölü ve çevresinde yeni alanlar oluşturuluyor.  
D) Karadeniz Bölgesi, en çok yağış alan bölgedir.



10.



Aşağıdakilerden hangisi bu görsellerden biriyle ilgili **değildir**?

- A) Hava Kirliliği B) Denizlerin Kirliliği  
C) Çevre Kirliliği D) Hayvan Hakları



11. İnsan ne denli çok çalışıp para kazanırsa kazansın, tutumlu olmayı bilmezse bir şey artıramaz. Dikkatli harcama yapmak gerekir. Para kazanmakla değil tutumla artar.

**Aşağıdakilerden hangisi bu sözleri özetleyen atasözüdür?**

- A) İşten artmaz dıştan artar.
- B) Ak akçe kara gün içindir.
- C) Dost ile ye, iç; alışveriş etme.
- D) Bin bilsen de bir bilene danış.



12. Aşağıdaki cümlelerin hangisinde geçen altı çizili sözcük temel anlam ifade etmektedir?

- A) O sabah tüm kuşlar sıcak bir gülümsemeyle karşıladı baharı.
- B) Rüzgâr gittikçe şiddetini artırmış, dalları savuruyor.
- C) Son sözlerime kırıldığını maalesef fark edememişim.
- D) Dedesi tüm aileyi kanatları altına almıştı.



**TÜRKÇE TESTİ BİTTİ.  
MATEMATİK TESTİNE GEÇİNİZ.**

1. Bu testte toplam 12 soru vardır.
2. Cevaplarınızı, cevap kâğıdınızın Matematik testi için ayrılan kısmına işaretleyiniz.

1. Ayşe aklından tuttuğu üç basamaklı sayıyı yanyana iki kez yazarak 6 basamaklı bir sayı elde ediyor.

Ayşe elde ettiği sayı ile ilgili aşağıdaki ipuçlarını veriyor.

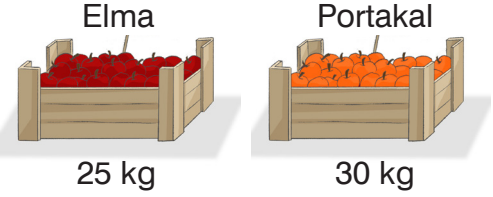

- Yüzler ve yüzbinler basamağındaki rakamların toplamı 14 tür.
- Onlar ve on binler basamağındaki rakamların toplamı 10 dur.
- Rakamların sayı değerleri toplamı 36'dır.

**Buna göre Ayşe'nin aklından tuttuğu sayı kaçtır?**

- A) 863      B) 756      C) 716      D) 648



2. Aşağıdaki kamyonun kasasına 80 tane meyve kasası konuluyor.

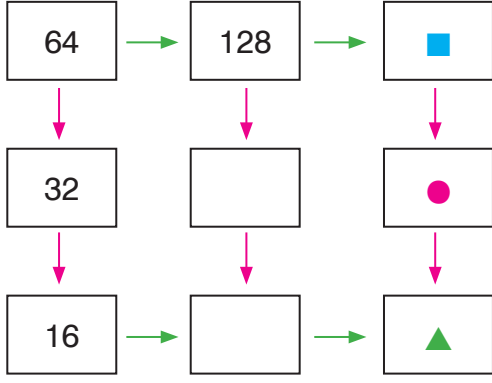


**Kamyonda eşit sayıda 25 kg elma ve 30 kg portakal kasalarından bulunduğuna göre kamyondaki meyvelerin toplam ağırlığı kaç kilogramdır?**

- A) 2200      B) 2000  
C) 1800      D) 1600



3.



Yukarıdaki işlem ağacında

- "→" sembolü sayıları 2 ile çarpar.
- "↓" sembolü sayıları 2 ile böler.

Buna göre ■ + ● + ▲ toplamı kaçtır?

- A) 538      B) 528      C) 448      D) 348



4.



Yukarıda yol boyunca 75 metre aralıklarla direkler dikilmiştir.

Sunay bu yolda bisikletiyle 500 metre gitğine göre, **en çok** kaç direğin önünden geçmiştir?

- A) 8      B) 7      C) 6      D) 5



5.



Türkiye'de kara yolu ile birbirine en uzak iki ilimiz olan Edirne ile Hakkari illerinin arası yaklaşık 2040 km dir.

**Aynı karayolu üzerindeki İstanbul ili ile Edirne ili arası 258 km olduğuna göre, İstanbul ili ile Hakkari ilinin birbirine uzaklığı kaç km dir?**

- A) 1872      B) 1792  
C) 1782      D) 1702



6. Aşağıdaki eşitliklerde ■ yerine yazılacak sayılardan hangisi **en büyüktür**?

- A)  $3200 \div 10 = 300 + \blacksquare$   
B)  $25 \times 10 = 290 - \blacksquare$   
C)  $82 + 82 + 82 = 200 + \blacksquare$   
D)  $18 \times 45 = 900 - \blacksquare$





Emre cebindeki parayla aşağıdaki oyuncaklardan hangisini alırsa para üstü almadan ödeme yapabilir?

A)



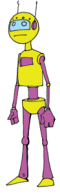
75 TL

B)



58 TL

C)



104 TL

D)



96 TL



GENAYNINLAR  
T.C. MİLLÎ EĞİTİM BAKANLIĞI

8. 10 arkadaş 30 kurabiyeyi eşit olarak paylaşıyorlar. Daha sonra gruba sonradan katılan arkadaşları olunca herbiri kendi kurabiyelerinden birer taneyi yeni gelen arkadaşlarına veriyor.

Böylece tümü eşit miktarda kurabiye yediğine göre gruba sonradan katılan arkadaş sayısı kaçtır?

- A) 10      B) 8      C) 6      D) 5



9. Sencer, Kaya, Bilge ve Arda aynı büyüklükte birer pizza alıyor. İlk 5 dakikanın sonunda

- Sencer pizzasının  $\frac{1}{6}$  sını
- Kaya pizzasının  $\frac{1}{8}$  inı
- Bilge pizzasının  $\frac{1}{5}$  inı
- Arda pizzasının  $\frac{1}{4}$  ünü

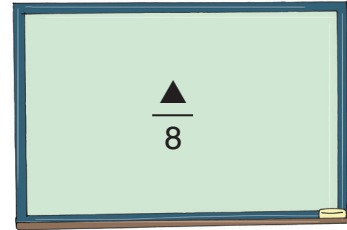
yemiştir.

Buna göre ilk 5 dakikada pizzasından **en az** yiyen kimdir?

- A) Sencer      B) Kaya  
C) Bilge      D) Arda



10. Taha Öğretmen tahtaya yazdığı kesrin bileşik kesir olmasını istiyor.



Öğrencilerinden dördü  $\blacktriangle$  sembolü yerine aşağıdaki sayıları söylediğine göre hangi sayıyı söyleyen öğrenci soruyu doğru **çözememiştir**?

- A) 7      B) 8      C) 9      D) 10



11.



Kestane şekeri imal eden bir işyerinde Ayşe Hanım kestane şekerlerini 20 lik paketlere, Emine Hanım 50 lik paketlere yerleştiriyor.

**Ayşe Hanım 1200 tane, Emine Hanım 1500 tane kestane şekerini paketlediğine göre, Emine Hanım Ayşe Hanımdan kaç tane fazla paket yapmıştır?**

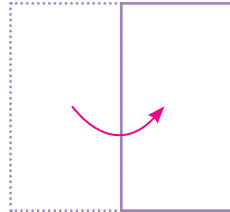
- A) 35      B) 30      C) 20      D) 10



GEN Yayınları  
www.genyayinlari.com.tr

12.

10	100
1000	12



Yukarıda verilen A4 kağıdı dört eş bölgeye ayrılıp içlerine birer doğal sayı yazılıyor. Daha sonra kağıt şekildeki gibi ortadan ikiye katlanıyor ve üst üste gelen sayılar çarpılıyor.

**Elde edilen çarpımlardan biri aşağıdaki-lerden hangisidir?**

- A) 1000      B) 1200  
C) 10000      D) 100000





1. Bu testte toplam 12 soru vardır.
2. Cevaplarınızı, cevap kâğıdınızın Fen Bilimleri testi için ayrılan kısmına işaretleyiniz.

1. Kayaçlar toprak tabakasından farklı olarak daha sert ve daha sağlamdır. Ancak su, rüzgâr ve sıcaklık farkı nedeni ile yerkabuğundaki kayaçlar sürekli aşınır ve ufalanır.


**Buna göre kayaçların ufalanması ile oluşan yapılar aşağıdakilerden hangisinde büyükten küçüğe doğru sıralanmıştır?**

- A) Kayaç, kaya, taş , kum
- B) Kayaç, kaya, kum, taş
- C) Kayaç, kum, taş, kaya
- D) Kayaç, taş, kaya, kum



2.

1



Balık

2




Domates

3



Yumurta

4



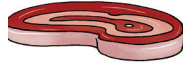
Süt

5



Patates

6



Et

**Yukarıdaki besin çeşitlerinin kaynakları ile eşleştirilmesi aşağıdakilerden hangisinde doğru verilmiştir?**

	Hayvansal kaynaklı besinler	Bitkisel kaynaklı besinler
A)	1 - 3 - 4 - 6	2 - 5
B)	1 - 3 - 5 - 6	2 - 4
C)	2 - 3 - 6	1 - 4 - 5
D)	5 - 6	1 - 2 - 3 - 4



3.

1	Karbonhidratlardan daha fazla enerji verir. İhtiyaçtan fazlası vücutta depo edilir.	a	Yağlar
2	Büyüme ve gelişmede ayrıca yaraların iyileşmesinde vücudumuzun ihtiyacı olan besinlerdir.	b	Vitaminler
3	Vücudumuzda düzenleyici olarak görev yapar. Yeterince alınmazsa vücudun direnci düşer.	c	Proteinler

**Tablodaki ifadeler doğru kavramlarla eşleştirildiğinde aşağıdakilerden hangisi gibi olur?**

A)

1	→	b
2	→	a
3	→	c

B)

1	→	a
2	→	c
3	→	b

C)

1	→	c
2	→	a
3	→	b

D)

1	→	b
2	→	c
3	→	a



4. Aşağıdakilerden hangisi vücudumuzdaki organların sağlığını korumak için dikkat edilmesi gereken davranışlardan biri **değildir**?

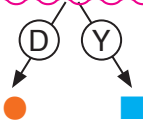
- A) Dengeli ve düzenli beslenmek  
B) Alkol ve sigaradan uzak durmak  
C) Düzenli olarak spor yapmak  
D) Meyve ve sebzeleri yıkamadan tüketmek



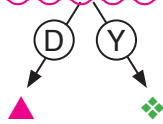
5. Kuvvet uygulanarak cisimlerin hareketinde hızlanma, yavaşlama ve yön değiştirme gibi etkilere sebep olunabilir.



Kuvvet uygulanan lastik, sünger ve yay gibi cisimlerin şekilleri değişir. Kuvvet ortadan kalktığında bu cisimler eski şeklini alır.



Hareket yönünde uygulanan kuvvet, cismin daha hızlı hareket etmesine, hareket yönüne ters yönde uygulanan kuvvet ise cismin yavaşlamasına neden olur.



Yukarıdaki kuvvet ile ilgili olarak verilen ifadelerin doğru (D) ya da yanlış (Y) olduğuna karar verilerek ok yönünde ilerlendiğinde hangi sembole ulaşılır?

- A) ● B) ■ C) ▲ D) ◆



6.

İfadeler	D	Y
Mıknatısların zıt kutupları birbirini iter.	✓	
Mıknatısların çekim gücü kutuplarında daha fazladır.	✓	
Mıknatıslar altın, bakır ve gümüş gibi metallere çekim kuvveti uygular.		✓
Mıknatıslar pusulada ve buzdolabına yapıştırılan süslerde bulunur.	✓	

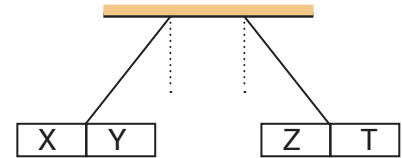
Aysel Fen Bilimleri dersinde yukarıda verilen etkinliği ifadelerin doğru (D) ya da yanlış (Y) olduğuna karar vererek "✓" ile dolduruyor.

Her hatasız işaretleme 10 puan olduğuna göre Aysel, kaç puan alır?

- A) 10 B) 20 C) 30 D) 40



7.



Kutupları X, Y, Z ve T ile belirtilen mıknatıslar ipe asılarak yanyana getirildiğinde yukarıdaki şekildeki gibi birbirini itiyor.

Buna göre aşağıda verilenlerden hangileri doğrudur?

- I. Y ve Z aynı kutuptur.  
II. X kuzey kutbu ise Z güney kutbudur.  
III. T güney kutbu ise X kuzey kutbudur.  
A) Yalnız I B) I ve II  
C) II ve III D) I, II ve III



8.

Yağ: ●	Vitamin: ■
Protein: ▲	Mineral: ◆

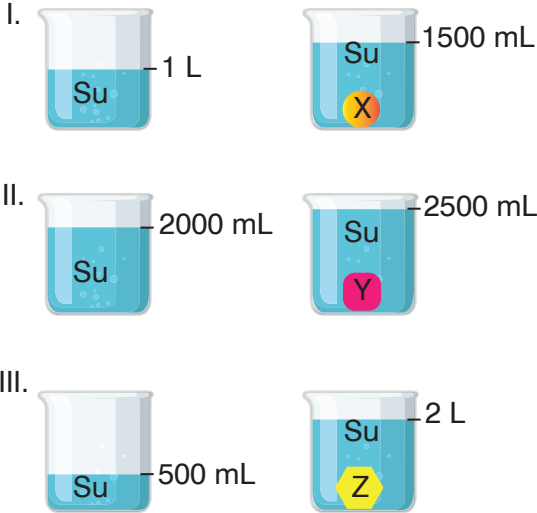
Yukarıdaki tabloda, yağ, vitamin, protein ve mineral bakımından zengin besinlerin karşısında bulunan ●, ■, ▲ ve ◆ yerine aşağıdaki örneklerden hangileri yazılmış olabilir?

- a. Zeytin yağı                      b. Kalsiyum  
c. Süt                                      d. Havuç

	●	■	▲	◆
A)	a	d	b	c
B)	b	c	d	a
C)	a	d	c	b
D)	b	d	c	a



9.




Yukarıda belirtilen hacimlerde su bulunan dereceli kapları X, Y ve Z cisimleri atılıyor.

Cisimleri atılmadan önceki ve sonraki ölçümleri şekilde verildiğine göre cisimlerin hacimlerinin büyüklükleri arasındaki ilişki nasıldır?

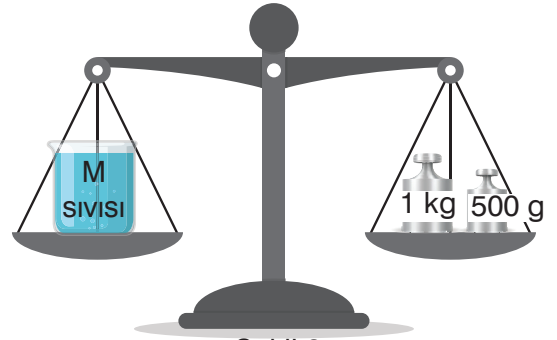
- A)  $Y > Z > X$                       B)  $Y > X > Z$   
C)  $X = Y > Z$                       D)  $Z > X = Y$



10. Aşağıda verilen terazi ile M sıvısının kütlesi ölçülüyor. Şekil 1 de sıvının konulacağı kap boş iken, Şekil 2 de kaba sıvı konularak ölçüm yapılıyor.



Şekil 1



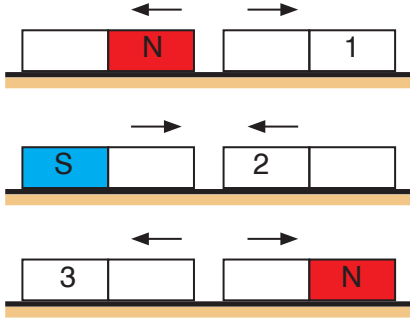
Şekil 2

Buna göre M sıvısının net kütlesi kaç gramdır?

- A) 250                                      B) 500  
C) 1250                                      D) 1500



11.



Yukarıdaki şekillerde verilen mıknatısların birbirine yaklaştırıldığında uyguladıkları itme ve çekme kuvvetleri oklarla gösterilmiştir.

**Buna göre mıknatısların 1, 2 ve 3 ile belirtilen kutupları aşağıdakilerden hangisinde doğru verilmiştir?**

	1	2	3
A)	N	N	S
B)	S	S	S
C)	S	S	N
D)	N	S	N



GEN Yayınları  
www.genyayinlari.com.tr

12. Aşağıda bazı öğrencilerin gözlemlediği olaylar verilmiştir.



Aslı, elindeki mıknatısı masa üzerindeki iğnelere yaklaştırdığında iğneleri uzaktan hareket ettirebiliyor.



Burcu, masanın çekmecesini çekiyor.



Murat balkondaki saksının yere düştüğünü gözlemliyor.

**Hangi öğrencilerin gözlemlediği olaylar, temas gerektirmeyen kuvvetlerle ilgilidir?**

- A) Yalnız Aslı
- B) Yalnız Burcu
- C) Aslı ve Murat
- D) Burcu ve Murat



1. Bu testte toplam 12 soru vardır.
2. Cevaplarınızı, cevap kâğıdınızın Sosyal Bilgiler testi için ayrılan kısmına işaretleyiniz.

**1 ve 2. soruları aşağıdaki paragrafa göre çözüünüz.**

Millet; dil, tarih ve kültür birliği olan insan topluluğudur. Bir milleti oluşturan insanlar çeşitli amaçlarla araç gereçler yapar, yapılar inşa ederler. Duygu ve düşüncelerini söz, yazı, müzik veya resim yoluyla anlatmaya çalışırlar. Sevinçlerini ve üzüntülerini paylaşarak kader ortaklığı yaparlar. Uzun bir zamana yayılan bu yaşantılarının sonucunda da millî kültür adı verilen, kendilerine özgü maddi ve manevi değerler meydana getirirler. Böylece her millet; dili, gelenek ve göreneklere, millî kıyafetleri, bayramları, inançları, ahlaki değerleri ve sanat anlayışı ile başka milletlerden ayrılır. Kökleri tarihin derinliklerine uzanan Türk milleti zengin bir kültüre sahiptir. Misafire kahve ikram etmek, dinî bayramlarda büyüklerin ellerini öpmek, hastaları ziyaret etmek, sünnet ve düğün törenleri yapmak millî kültür öğelerimizdendir. Ayrıca hepimizin evinde millî kültürümüzü yansıtan eşyalar ve sanat eserleri vardır.

**1. Metne göre aşağıdakilerden hangisi Milli Kültür unsurlarından biri **olmaz**?**

- A) Halk oyunları
- B) Müzik eserleri
- C) Doğal kaynaklar
- D) Mimari eserler



**2. Verilen bilgiler dikkate alındığında,**

- I. Her milletin sanat anlayışı aynıdır.
- II. Millî kültürümüzü yansıtan öğeleri evlerimizde de görebiliriz.
- III. Milleti oluşturan insanlar çeşitli amaçlarla yapılar inşa eder.

**yargılarından hangisine ya da hangilerine ulaşılabilir?**

- A) Yalnız II
- B) I ve II
- C) II ve III
- D) I, II ve III



- 3. Bulduğumuz yeri tarif edebilmek veya bir yeri bulabilmek için yönlerden yararlanırsınız. Evimizin, okulumuzun veya gideceğimiz bir yerin bulduğumuz noktaya göre hangi tarafta bulunduğunu da yönleri kullanarak tarif ederiz. Özellikle doğada dolaşırken yön bilgimiz sayesinde gideceğimiz yere kolayca ulaşabilir, kaybolma tehlikesi yaşamayız. İlimizin, bölgemizin, yurdumuzun ve komşularımızın konumunu belirtirken de yönlerden yararlanırsınız.**

**Buna göre,**

- I. Bulutlara bakmak
- II. Yosunlara bakmak
- III. Gölgeden yararlanmak

**hangisi ya da hangileri yön bulmada kullanılır ?**

- A) Yalnız II
- B) I ve II
- C) II ve III
- D) I, II ve III



4.

“... Bu durum karşısında bir tek karar vardı. O da ulus egemenliğine dayanan, tam bağımsız yeni bir Türk devleti kurmak! İşte, daha İstanbul'dan çıkmadan önce düşündüğümüz ve Samsun'da Anadolu topraklarına ayak basar basmaz uygulamaya başladığımız karar, bu karar olmuştur. Bu kararın dayandığı en sağlam düşünüş ve mantık şu idi: Temel ilke, Türk ulusunun onurlu ve şerefli bir ulus olarak yaşamasıdır. Bu ancak tam bağımsız olmakla sağlanabilir. Ne kadar zengin ve refah içinde yaşarsa yaşasın, bağımsızlıktan yoksun bir ulus uygar insanlık karşısında uşak olmaktan öteye gidemez.”



**Mustafa Kemal'in Nutuk'ta geçen yukarıda verilen sözüne bakılarak,**

- I. İşgalcilere karşı direnmenin faydasız olduğunu
- II. Mustafa Kemal, milletin özgürlüğünü ve bağımsızlığını her şeyin üzerinde tutan bir liderdi.
- III. Türk milletin, varlığını sürdürebilmesi için büyük bir devletin koruyuculuğu altına girmesi gerektiği

**yorumlarından hangisi ya da hangileri yapılabilir?**

- |              |                 |
|--------------|-----------------|
| A) Yalnız II | B) I ve II      |
| C) II ve III | D) I, II ve III |



5. Bir hava gözlem grafiği ile,

- I. Yağış şekli
- II. Dağların yükseltisi
- III. Güneşli gün sayısı

**hangileriyle ilgili bilgi edinilebilir?**

- |              |                 |
|--------------|-----------------|
| A) Yalnız II | B) I ve II      |
| C) I ve III  | D) I, II ve III |



6. Kurtuluş Savaşı yıllarında Türk halkının tutumuyla ilgili verilen bilgilerden hangisi yanlıştır?

- A) Düşmana karşı silahlı direniş birlikleri kurmuşlardır.
- B) Mücadele ruhunu kaybetmeden düşmanı kovmuşlardır.
- C) Osmanlı Hükümeti'ni yaptıklarından dolayı desteklemişlerdir.
- D) Birlik ve beraberlik içinde düşmana karşı mücadele etmişlerdir.



7. I. Küçükleri korumak
- II. Büyüklerimizin elini öpmek
- III. Anne ve babamızın sözünü dinlemek
- IV. Misafirimiz konuşurken sık sık sözünü kesmek

**Yukarıdakilerden hangisinin kültürümüzde yeri yoktur?**

- |      |       |        |       |
|------|-------|--------|-------|
| A) I | B) II | C) III | D) IV |
|------|-------|--------|-------|



8. Balkan Savaşlarında bulundu. Er olarak katıldığı Birinci Dünya Savaşı'nda Çanak-kale, Yemen ve Sina cephelerinde savaştı. Gösterdiği başarılarından dolayı subaylığa yükseltildi. Fransızların Antep'i işgal etmesi üzerine Kilis Kuvayimillie Komutanlığına getirildi. Kilis-Antep kara yoluna savunma hattı kurarak Fransızların Antep'teki kuvvetlerine destek göndermelerini engelledi. Fransızlar, Kilis-Antep yolunu açmak için 26 Mart 1920'de Antep'e doğru ilerleyişe geçtiler. Fransızlara karşı Emrindeki kuvvetiyle üç gün boyunca direndikten sonra şehit düştü. Adına halk tarafından türküler yakılıp ağıtlar söylendi.

**Metinde hakkında bilgi verilen Antep'teki Milli Mücadeleyi başlatan kahramanımız kimdir?**

- A) Şahin Bey                      B) Hasan Tahsin  
C) Sütçü İmam                    D) Kâzım Karabekir



GEN Yayımları  
www.genyayinlari.com.tr

9. Çağatay, sınıflarına yeni gelen Kerem'e sağlık ocağına nasıl gidileceğini anlatmak istiyor.

**Bu durumda Çağatay'ın hangisini kullanması uygun olur?**

- A) Kroki                              B) Pusula  
C) Plân                                 D) Harita



10. Duvara harita asıp haritaya sırtını dönerek kollarını yana açan öğrencinin sol kolu haritada hangi yönü gösterir?

- A) Doğu                                B) Batı  
C) Kuzey                              D) Güney



## 11 ve 12. Soruları aşağıdaki metne göre cevaplayınız.

Türkiye Cumhuriyeti'ni kuran Türk milleti bundan yüzyıl kadar önce yurdunu elinden almak isteyen işgalcilerin saldırısına uğramıştır. Ancak işgalci devletler ne kadar güçlü olursa olsun milletimiz onlara boyun eğmemiş ve Millî Mücadele'den zaferle çıkarak varlığını korumasını bilmiştir. Millî Mücadele'nin kazanılmasında Türk milletinin bağrından çıkan kahramanlarımızın payı büyüktür. Bu kahramanların başında "Ya istiklal ya ölüm!" şî,resiyle Millî Mücadele'yi başlatan Gazi Mustafa Kemal Atatürk gelir.

1881 yılında Selânik'te doğan Mustafa Kemal, askerî okullardaki eğitimini tamamladıktan sonra 1905 yılında ordudaki görevine başladı. Onun askerlik hayatına adım attığı yıllarda Osmanlı Devleti büyük tehditlerle karşı karşıya bulunuyordu. Sömürgeci Avrupa devletleri Osmanlı topraklarını paylaşma konusunda anlaşmışlardı. Bu devletlerden İtalya'ya karşı 1911'de Trablusgarp'ta savaşan Mustafa Kemal, 1914'ten 1918 yılına kadar süren Birinci Dünya Savaşı'nda da çeşitli cephelerde görevler üstlendi. Çanakkale Cephesi'nde kazandığı zaferden dolayı halk arasında "Anafartalar Kahramanı" olarak tanındı. Osmanlı Devleti 30 Ekim 1918'de imzaladığı Mondros Ateşkes Antlaşması'yla bağımsızlığını ve kendini savunma imkânlarını kaybetti. Mustafa Kemal, ülkemizin uğradığı bu felaket karşısında ümidini kaybetmedi. "Geldikleri gibi giderler." diyerek işgalcilerin yurdumuzdan kovulacağına olan inancını dile getirdi. 19 Mayıs 1919'da Millî Mücadele'yi başlatmak üzere Samsun'a ayak bastı.

## 11. Metinden hareketle,

I. Mustafa Kemal'in Millî Mücadele'deki parolası nedir?

II. Çanakkale Savaşı hangi yıl olmuştur?

III. Osmanlı Devleti hangi antlaşmayla istiklalini kaybetmiştir?

hangi soruların cevabına ya da cevaplarına ulaşılabilir?

A) Yalnız III

B) I ve III

C) II ve III

D) I, II ve III



## 12. Metne bakılarak,

I. Türk milleti bağımsızlık için mücadele etmiştir.

II. Millî Mücadele'ye katılım zamanla azalmıştır.

III. Mustafa Kemal'in önderliğinde Millî Mücadele zaferle sonuçlanmıştır.

yargılarından hangisine ya da hangilerine ulaşılabilir?

A) Yalnız II

B) I ve II

C) I ve III

D) I, II ve III

